

**Задача 1**

Объектом изучения какой науки являются языковые группы и семьи?

|   |                                  |              |
|---|----------------------------------|--------------|
| 1 | <input type="radio"/>            | антропологии |
| 2 | <input checked="" type="radio"/> | этнографии   |
| 3 | <input type="radio"/>            | демографии   |
| 4 | <input type="radio"/>            | социологии   |

**Задача 2**

Выберите территорию, где значение ускорения Кориолиса наименьшая.

|   |                                  |                   |
|---|----------------------------------|-------------------|
| 1 | <input checked="" type="radio"/> | Индонезия         |
| 2 | <input type="radio"/>            | Саудовская Аравия |
| 3 | <input type="radio"/>            | Белоруссия        |
| 4 | <input type="radio"/>            | Канада            |

**Задача 3**

В какой проекции при одинаковом масштабе карты 80-я параллель будет иметь наибольшую протяжённость?

|   |                                  |                       |
|---|----------------------------------|-----------------------|
| 1 | <input checked="" type="radio"/> | цилиндрическая        |
| 2 | <input type="radio"/>            | коническая            |
| 3 | <input type="radio"/>            | полярная азимутальная |
| 4 | <input type="radio"/>            | поликоническая        |

**Задача 4**

Установите последовательность перечисленных событий в истории географических открытий, начиная с самого раннего:

|   |                      |
|---|----------------------|
| Открытие Новой Зеландии                   | <input type="text"/> |
| Открытие пятого по площади материка Земли | <input type="text"/> |
| Открытие архипелага Северная Земля        | <input type="text"/> |
| Первое кругосветное плавание              | <input type="text"/> |

**Ответ:** 1 – 2, 2 – 3, 3 – 4, 4 – 1

**Задача 5**

Установите горные системы в порядке уменьшения их геологического возраста.

|                |                      |
|----------------|----------------------|
| Аппалачи       | <input type="text"/> |
| хр. Черского   | <input type="text"/> |
| Крымские горы  | <input type="text"/> |
| Восточный Саян | <input type="text"/> |

**Ответ:** 1 – 2, 2 – 3, 3 – 4, 4 – 1

**Задача 6**

Установите последовательность перечисления озёр по их максимальной глубине, начиная с самого глубокого озера из перечисленных.

|                 |                      |
|-----------------|----------------------|
| Танганьика      | <input type="text"/> |
| Виктория        | <input type="text"/> |
| Сарезское       | <input type="text"/> |
| Каспийское море | <input type="text"/> |

**Ответ:** 1 – 1, 2 – 4, 3 – 3, 4 – 2

**Задача 7**

Расположите перечисленные города зарубежной Европы по численности населения, начиная с наибольшего по данному показателю.

|           |                      |
|-----------|----------------------|
| Кёльн     | <input type="text"/> |
| Лондон    | <input type="text"/> |
| Рим       | <input type="text"/> |
| Барселона | <input type="text"/> |

**Ответ:** 1 – 4, 2 – 1, 3 – 2, 4 – 3

**Задача 8**

В каком из перечисленных субъектов России наибольший показатель естественного прироста населения?

|   |                                  |                 |
|---|----------------------------------|-----------------|
| 1 | <input checked="" type="radio"/> | Республика Тыва |
| 2 | <input type="radio"/>            | Москва          |
| 3 | <input type="radio"/>            | Пермский край   |

|   |                       |                  |
|---|-----------------------|------------------|
| 4 | <input type="radio"/> | Тульская область |
|---|-----------------------|------------------|

**Задача 9**

Выберите вариант, в котором все гидроэлектростанции расположены на Волге.

|   |                                  |   |
|---|----------------------------------|---|
| 1 | <input type="radio"/>            | Волгоградская, Саратовская, Воткинская  |
| 2 | <input checked="" type="radio"/> | Иваньковская, Угличская, Чебоксарская   |
| 3 | <input type="radio"/>            | Рыбинская, Угличская, Цимлянская        |
| 4 | <input type="radio"/>            | Усть-Илимская, Нижнекамская, Нурейская  |
| 5 | <input type="radio"/>            | Чебоксарская, Цимлянская, Нижегородская |

**Задача 10**

Укажите, в какой стране столица не является крупнейшим по числу жителей городом.

|   |                                  |           |
|---|----------------------------------|-----------|
| 1 | <input type="radio"/>            | Аргентина |
| 2 | <input checked="" type="radio"/> | Бразилия  |
| 3 | <input type="radio"/>            | Мексика   |
| 4 | <input type="radio"/>            | Уругвай   |

**Задача 11**

Выберите названия трех форм рельефа, распространенных в Тверской области.

|   |                                     |                   |
|---|-------------------------------------|-------------------|
| 1 | <input type="checkbox"/>            | булгуннях         |
| 2 | <input type="checkbox"/>            | алас              |
| 3 | <input checked="" type="checkbox"/> | овраг             |
| 4 | <input type="checkbox"/>            | современный кар   |
| 5 | <input type="checkbox"/>            | бархан            |
| 6 | <input checked="" type="checkbox"/> | моренная западина |
| 7 | <input checked="" type="checkbox"/> | карстовая воронка |

**Задача 12**

Выберите объекты, непосредственно относящиеся к акватории и побережью самого крупного по площади озера мира.

|   |                                     |             |
|---|-------------------------------------|-------------|
| 1 | <input checked="" type="checkbox"/> | Азербайджан |
|---|-------------------------------------|-------------|

|   |                                     |                |
|---|-------------------------------------|----------------|
| 2 | <input type="checkbox"/>            | цианея         |
| 3 | <input type="checkbox"/>            | Ольхон         |
| 4 | <input checked="" type="checkbox"/> | Кара-Богаз-Гол |
| 5 | <input type="checkbox"/>            | Листвянка      |
| 6 | <input checked="" type="checkbox"/> | тюлень         |
| 7 | <input checked="" type="checkbox"/> | Терек          |

**Задача 13**

Какие этнонимы не встречаются в названиях субъектов Российской Федерации?

|   |                                     |          |
|---|-------------------------------------|----------|
| 1 | <input type="checkbox"/>            | калмыки  |
| 2 | <input type="checkbox"/>            | чукчи    |
| 3 | <input type="checkbox"/>            | удмурты  |
| 4 | <input checked="" type="checkbox"/> | белорусы |
| 5 | <input checked="" type="checkbox"/> | коряки   |
| 6 | <input type="checkbox"/>            | ненцы    |
| 7 | <input checked="" type="checkbox"/> | вепсы    |

**Задача 14**

Установите соответствия между странами-метрополиями и их бывшими колониями.

|   |                      |                |
|---|----------------------|----------------|
| 1 | <input type="text"/> | Великобритания |
| 2 | <input type="text"/> | Франция        |
| 3 | <input type="text"/> | Испания        |
| 4 | <input type="text"/> | Италия         |
| 5 | <input type="text"/> | Португалия     |

Возможные ответы





|   |                       |
|---|-----------------------|
| 1 | Экваториальная Гвинея |
| 2 | Бурунди               |
| 3 | Нигерия               |
| 4 | Эфиопия               |
| 5 | Ангола                |
| 6 | Маршалловы острова    |
| 7 | Вьетнам               |

|    |        |
|----|--------|
| 8  | Ливия  |
| 9  | Самоа  |
| 10 | Руанда |

Ответ: 1- Нигерия;2- Вьетнам;3- Экваториальная Гвинея;4- Ливия;5- Ангола

**Задача 15**

Установите соответствия между современными флагами государств мира и их прежними названиями.

|   |  |
|---|--|
| 1 |    |
| 2 |   |
| 3 |  |
| 4 |  |



Возможные ответы

|   |                      |
|---|----------------------|
| 1 | Сиам                 |
| 2 | Свазиленд            |
| 3 | Заир                 |
| 4 | Кампучия             |
| 5 | Македония            |
| 6 | Верхняя Вольта       |
| 7 | Берег Слоновой Кости |

**Ответ:** 1- Кампучия;2- Заир;3- Сиам;4- Верхняя Вольта;5- Македония

### Задача 16

Выберите животных, обитающих на территории Колумбии.

|   |                                     |          |
|---|-------------------------------------|----------|
| 1 | <input type="checkbox"/>            | койот    |
| 2 | <input checked="" type="checkbox"/> | оцелот   |
| 3 | <input type="checkbox"/>            | скунс    |
| 4 | <input type="checkbox"/>            | утконос  |
| 5 | <input checked="" type="checkbox"/> | капибара |
| 6 | <input checked="" type="checkbox"/> | опоссум  |
| 7 | <input type="checkbox"/>            | эму      |

### Задача 17




Выберите неверные утверждения для Венгрии.



|   |                                     |  |
|---|-------------------------------------|--|
| 1 | <input checked="" type="checkbox"/> | крупнейшая зарубежная диаспора венгров проживает в Словакии    |
| 2 | <input checked="" type="checkbox"/> | Будапешт - крупнейший по числу жителей город Зарубежной Европы |
| 3 | <input checked="" type="checkbox"/> | страна имеет статус нейтрального государства                   |

|   |                                     |  |
|---|-------------------------------------|--|
| 4 | <input type="checkbox"/>            | страна крупнейший производитель токайских вин                                    |
| 5 | <input checked="" type="checkbox"/> | граница с Украиной - наиболее протяженная часть государственной границы Венгрии; |
| 6 | <input type="checkbox"/>            | денежная единица - форинт  |

**Задача 18**

Установите соответствие между контурами береговых линий морей, изображённых на спутниковых снимках, и расположенных вдоль них государств.

|   |                      |  |
|---|----------------------|--|
| 1 | <input type="text"/> |   |
| 2 | <input type="text"/> |  |
| 3 | <input type="text"/> |  |

|   |   |   |
|---|---|---|
| 4 | <input style="width: 100%; height: 20px;" type="text"/> |   |
| 5 | <input style="width: 100%; height: 20px;" type="text"/> |  |

Возможные ответы

|   |                   |
|---|-------------------|
| 1 | Эфиопия           |
| 2 | ФРГ               |
| 3 | Грузия            |
| 4 | Бруней            |
| 5 | Тринидад и Тобаго |
| 6 | Молдавия          |
| 7 | Иордания          |

**Ответ:** 1- Иордания;2- ФРГ;3- Тринидад и Тобаго;4- Грузия;5- Бруней

### Задача 19

В списке 7 городов мира, 5 из них специализируются на одной и той же отрасли промышленности. Определите два города, в которых данная отрасль специализации промышленности отсутствует.

|   |                                     |           |
|---|-------------------------------------|-----------|
| 1 | <input type="checkbox"/>            | Череповец |
| 2 | <input checked="" type="checkbox"/> | Норильск  |
| 3 | <input type="checkbox"/>            | Таранто   |



|   |                                     |          |
|---|-------------------------------------|----------|
| 4 | <input type="checkbox"/>            | Балтимор |
| 5 | <input checked="" type="checkbox"/> | Ордаль   |
| 6 | <input type="checkbox"/>            | Краков   |
| 7 | <input type="checkbox"/>            | Темиртау |

**Задача 20**

Установите соответствия между экологическими проблемами и территориями или акваториями, для которых они наиболее характерны.

|   |                      |                                |
|---|----------------------|--------------------------------|
| 1 | <input type="text"/> | Радиоактивное загрязнение      |
| 2 | <input type="text"/> | Опустынивание                  |
| 3 | <input type="text"/> | Деграация многолетней мерзлоты |
| 4 | <input type="text"/> | Нефтяное загрязнение           |
| 5 | <input type="text"/> | Таяние ледников                |

Возможные ответы

|   |                             |
|---|-----------------------------|
| 1 | Среднесибирское плоскогорье |
| 2 | Мексиканский залив          |
| 3 | Альпы                       |
| 4 | Полесье                     |
| 5 | Сахель                      |

**Ответ:** 1- Полесье;2- Сахель;3- Среднесибирское плоскогорье;4- Мексиканский залив;5- Альпы

**Задача 21**

Назовите штат США, определив его по перечисленным объектам: Эверглейдс, мыс Канаверал, Майами, Примексиканская низменность: .

**Ответ:** Флорида

**Задача 22**

Это плато, относящееся к бассейнам двух морей одного океана — наиболее высокая часть крупного плоскогорья, расположенного на древней платформе. Территория плато находится в пределах одного края, но относится еще к двум бывшим субъектам РФ. Назовите это плато: .

**Ответ:** Путорана

**Задача 23**

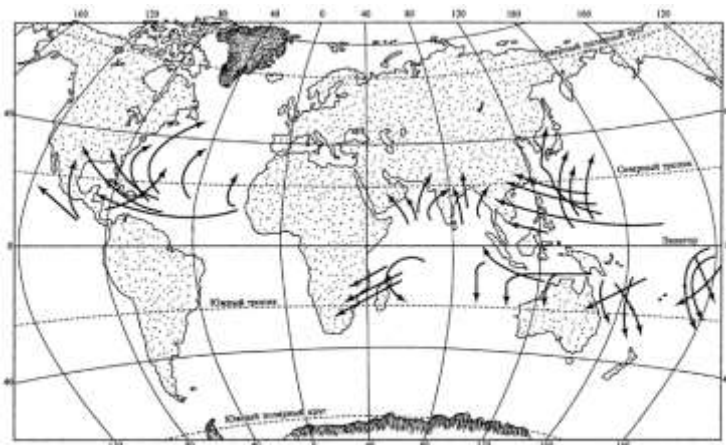


Определите субъект России, в котором проживает наибольшее число представителей народа, относящегося в финно-угорской языковой группе, так же проживающего на территории нескольких государств зарубежной Европы.: .

**Ответ:** Мурманская область

**Задача 24**

Как называется природное явление, изображенное на представленной картосхеме, в Восточной Азии: .



**Ответ:** тайфун

**Задача 25**

В какой природной зоне можно встретить кевирсы, эрги, такыры, гамады? .

**Ответ:** пустыня

**Задача 26**

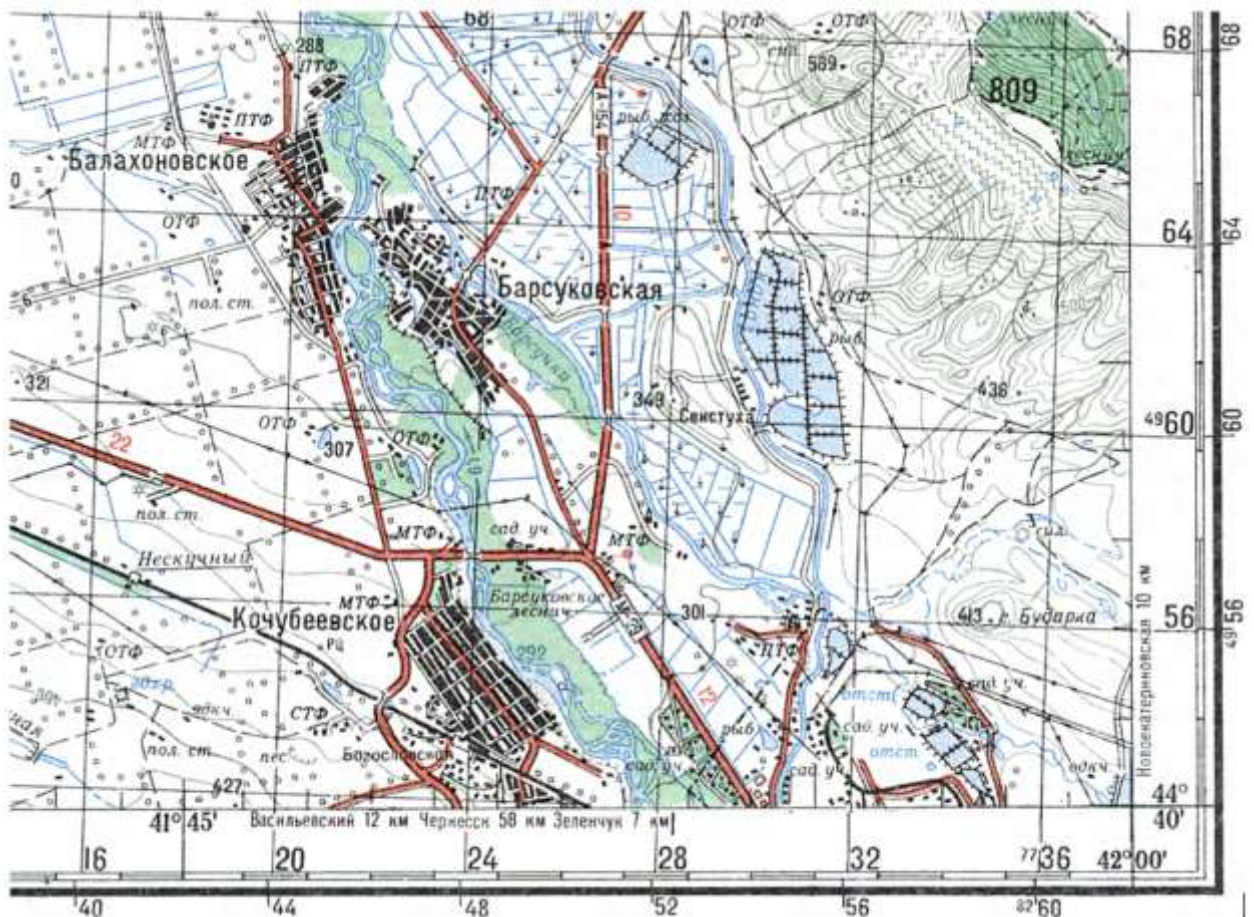
Выполните задания, используя фрагмент топографической карты.

Определите масштаб карты. Ответ запишите в виде численного масштаба: .

Напишите название крупнейшего населённого пункта, изображённого на фрагменте топографической карты: .

Какая природная зона распространена на территории, изображённой на фрагменте топографической карты? .

На территории какого субъекта России расположен обозначенный на карте участок местности? .



|                       |
|-----------------------|
| <b>Ответ</b>          |
| 1-1:200000            |
| 2-Кочубеевское        |
| 3-степь               |
| 4-Ставропольский край |

**27. Задача 27**

Высота Статуи Свободы составляет 93 м. На тангенс какого угла нужно умножить эту величину, чтобы получить длину тени, которую давала эта скульптура 12 марта в астрономический полдень? Ответ напишите в градусах, округлённых до целых значений: .

Сколько в этот момент было времени в Калининграде (в часах)? .

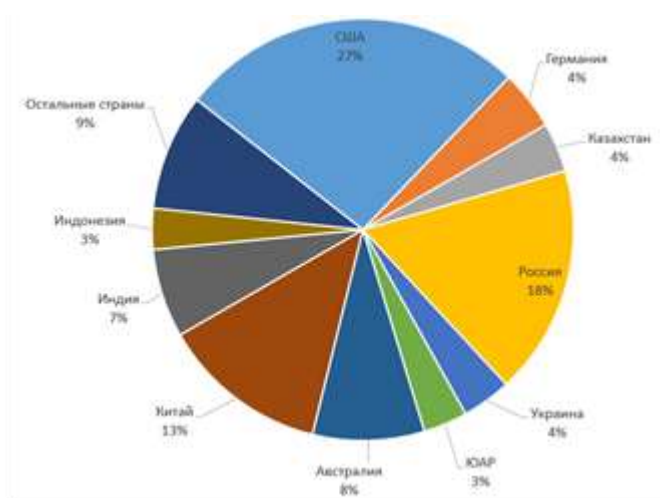
Ответ

1-43

2-19

**28. Задача 28\***

Рассмотрите круговую диаграмму о разведанных запасах топливного полезного ископаемого и выполните задания.



Назовите полезное ископаемое: .

Назовите крупнейший бассейн полезного ископаемого в стране-лидере по его запасам: .

Назовите субъект России, являющийся лидером по добыче данного полезного ископаемого: .

Назовите страну-лидера по добыче данного полезного ископаемого: .

Ответ

1-уголь

2-Иллинойский

3-Кемеровская область

4-Китай

**29. Задача 29**

Внимательно прочитайте текст о государстве зарубежной Европы. Ответьте на вопросы.

Это полуостровное государство зарубежной Европы, омываемое водами двух морей, имеет монархическую форму правления. Столица расположена на острове, который называется

также, как и провинция другой монархии Европы. Одним из символов столицы является скульптура персонажа одноимённой сказки известного писателя, жившего в столице страны. В столице есть «неформальный» район, который носит название, аналогичное старому названию (1624–1877) столицы соседнего королевства. Рельеф страны низменный, есть территории ниже уровня моря (–7 м), являющиеся антропогенными ландшафтами – осушёнными частями моря. У страны есть две автономные территории – одна из них крупнейший остров на планете, а другая – архипелаг вулканического происхождения. Архипелаг специализируется на рыболовстве, особенно на вылове сельди и рыбы, давшей название дипломатической «войне» между двумя островными государствами в этой части Мирового океана в 1958–1976 гг. Страна является одним из мировых лидеров в использовании возобновляемых источников энергии. Также всему миру известен детский пластмассовый конструктор, родиной которого является эта страна.

Впишите:

- название страны:

- название полуострова:

- название острова, на котором расположена столица:

- название скульптуры:

- название антропогенного ландшафта:

- название автономной территории – острова: ,

- название автономной территории – архипелага:

- вид рыбы, давшей название «дипломатической войне»:

- вид возобновляемого источника энергии:

- название конструктора:

**Ответ**

1-Дания

10-ЛЕГО

2-Ютландия

3-Зеландия

4-Русалочка

5-польдеры

6-Гренландия

7-Фарерские острова

8-треска

9-ветер

## 30. Задача 30

Замените пропуски в тексте словами. Слова могут быть собственными именами или понятиями.

Коралловые рифы – самые грандиозные сооружения, которые когда-либо создавались организмами на Земле. Считается что термин «риф», который обозначает опасные для мореплавания мели, впервые применил английский мореплаватель [ ], совершивший три кругосветных плавания. Эти сооружения в океане распространены, в первую очередь, между северным и южным [ ]. Но распространение коралловых рифов в первую очередь зависит не сколько от географической широты, сколько от [ ] воды. Самые северные коралловые рифы находятся южнее полуострова [ ], на котором располагаются два азиатских государства, и близ города [ ] с координатами 30°с.ш. 32° в.д. Со времён ученого [ ], совершившего кругосветное плавание на корабле «Бигль», принято различать 3 вида коралловых построек: береговой риф, барьерный риф и [ ], которые, как правило, формируются вокруг подводных [ ].

| Ответ             |
|-------------------|
| 1-Джеймс Кук      |
| 2-тропиками       |
| 3-температуры     |
| 4-Корея           |
| 5-Суэц            |
| 6-Чарльза Дарвина |
| 7-атолл           |
| 8-вулканов        |